

# 2025(令和 7)年度入学試験問題

## 社 会

(注意) 解答はすべて解答用紙に記入しなさい。


盈 進 中 学 校

**1** 次の各問いに答えなさい。



問1 次のマークは五輪マークとして知られているオリンピック・シンボルです。このマークの意味は、オセアニア、アジア、アフリカ、ヨーロッパ、南北アメリカの五大大陸をあらわしています。下の（１）・（２）の国はどの大陸に属していますか。あてはまるものを、あとの**ア～オ**のうちからそれぞれ選び、記号で答えなさい。



（１）フランス



（２）エジプト



**ア** オセアニア    **イ** アジア    **ウ** アフリカ    **エ** ヨーロッパ    **オ** 南北アメリカ

問2 三大洋とは、太平洋とインド洋とあと一つは何ですか。漢字で答えなさい。

問3 日本の<sup>はいただき</sup>排他的経済水域の<sup>はんい</sup>範囲は、沿岸から何海里までですか。次の**ア～エ**のうちから一つ選び、記号で答えなさい。

**ア** 10      **イ** 12      **ウ** 100      **エ** 200

問4 東北地方の中央部を南北に走っている山脈を何といいますか。次の**ア～エ**のうちから一つ選び、記号で答えなさい。

**ア** 日高山脈      **イ** <sup>おうう</sup>奥羽山脈      **ウ** 赤石山脈      **エ** <sup>つくし</sup>筑紫山脈

問5 次の①～④は日本海側と太平洋側の気候の特色を説明したものです。太平洋側の気候の組み合わせとして、正しいものはどれですか。下のア～エのうちから一つ選び、記号で答えなさい。

- ① 夏にかわいた風がふく。                      ② 夏にたくさんの雨がふる。  
③ 冬にかわいた風がふく。                      ④ 冬にたくさんの雪がふる。

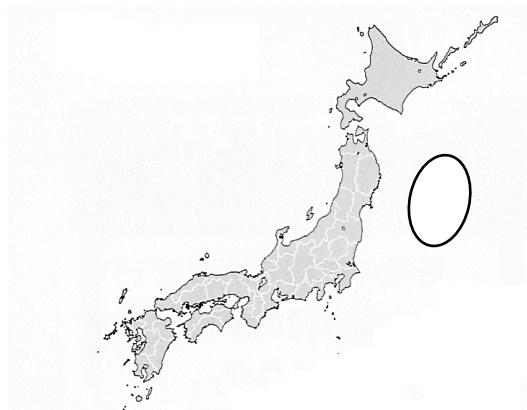
ア ①・③              イ ①・④              ウ ②・③              エ ②・④

問6 次のカードは、中部地方のある県の特徴をまとめたものです。このカードにあてはまる県はどれですか。下のア～ケのうちから一つ選び、記号で答えなさい。

- ・この県は海に面していない。  
・白川郷<sup>しらかわごう</sup>の合掌造り集落<sup>がっしょうづく</sup>は世界遺産に登録されている。

ア 愛知県              イ 長野県              ウ 山梨県<sup>やまなし</sup>              エ 新潟県<sup>にいがた</sup>              オ 石川県  
カ 富山県              キ 岐阜県<sup>ぎふ</sup>              ク 福井県              ケ 静岡県

問7 次の地図中の○が良い漁場である理由として、誤っているものはどれですか。下のア～エのうちから一つ選び、記号で答えなさい。



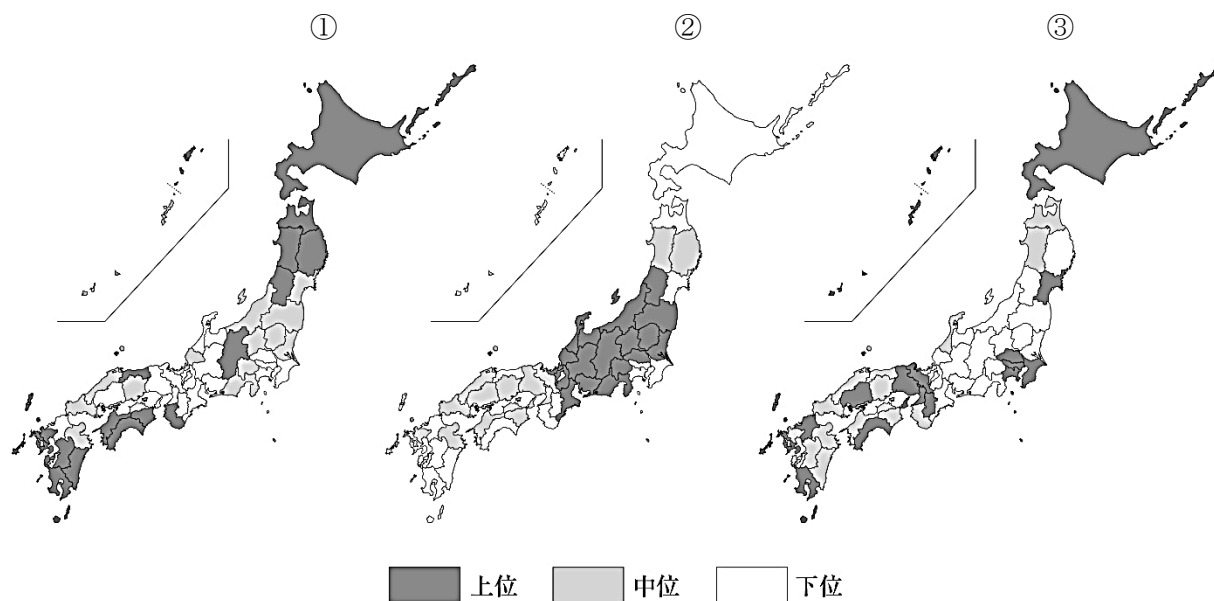
- ア 暖流と寒流がぶつかる場所だから。  
イ 魚のえさとなるプランクトンが多いから。  
ウ 東シナ海に近く大陸だなが広がっているから。  
エ 魚の種類が豊富だから。

問 8 次の表は北海道、岩手、秋田、千葉、東京における製造品出荷額の第 1 位の産業の推移を示したものです。秋田にあてはまるものを（１）に、東京にあてはまるものを（２）に、表中の ア～オ のうちからそれぞれ選び、記号で答えなさい。

	1960年	1980年	2000年	2020年
ア	木材・木製品	木材・木製品	電気機械	電子部品
イ	食料品	食料品	食料品	食料品
ウ	食料品	石油製品	化学	石油製品
エ	鉄鋼	食料品	電気機械	輸送機械
オ	電気機械	出版・印刷	出版・印刷	輸送機械

（日本国勢図会）

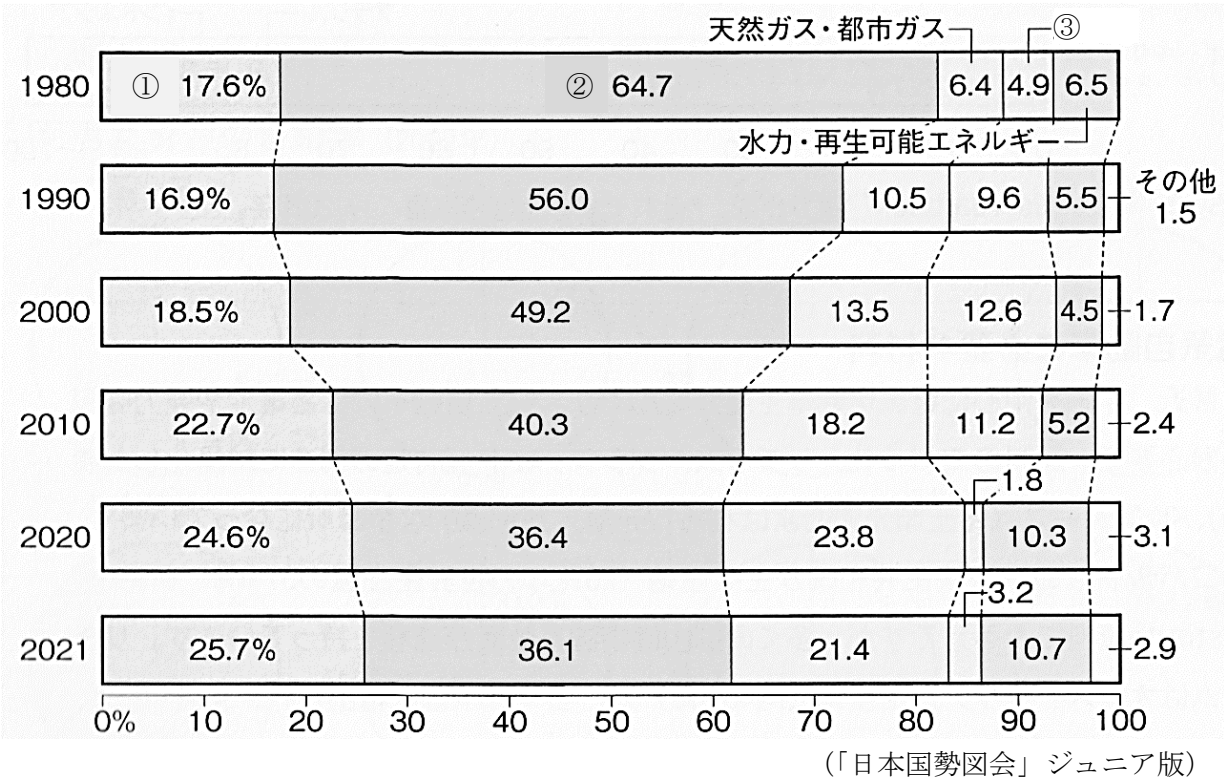
問 9 次の図①～③は、都道府県別の第 1 次産業で働く人の割合、第 2 次産業で働く人の割合、第 3 次産業で働く人の割合を、それぞれ上位、中位、下位に 3 区分して示したものです。各産業で働く人の割合と①～③との組み合わせとして、正しいものはどれですか。下の ア～カ のうちから一つ選び、記号で答えなさい。



（日本国勢図会）

	ア	イ	ウ	エ	オ	カ
第 1 次産業で働く人の割合	①	①	②	②	③	③
第 2 次産業で働く人の割合	②	③	①	③	①	②
第 3 次産業で働く人の割合	③	②	③	①	②	①

問 10 次のグラフは日本のエネルギー消費割合を年代ごとに示したものです。①～③は石炭、石油、原子力のいずれかです。石炭、石油、原子力と①～③との組み合わせとして、正しいものはどれですか。下のア～カのうちから一つ選び、記号で答えなさい。



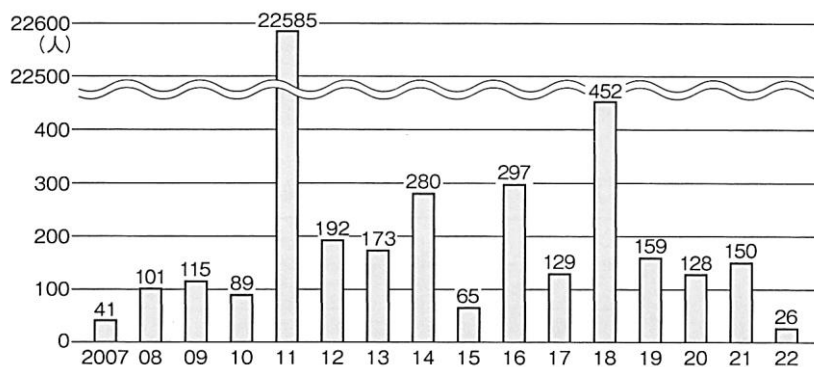
	ア	イ	ウ	エ	オ	カ
石 炭	①	①	②	②	③	③
石 油	②	③	①	③	①	②
原子力	③	②	③	①	②	①

問 11 現在、日本が最も多く輸出しているものは何ですか。次のア～エのうちから一つ選び、記号で答えなさい。

ア 食料品      イ 鉄鋼      ウ 機械製品      エ せんい品

**2** 次の各問いに答えなさい。

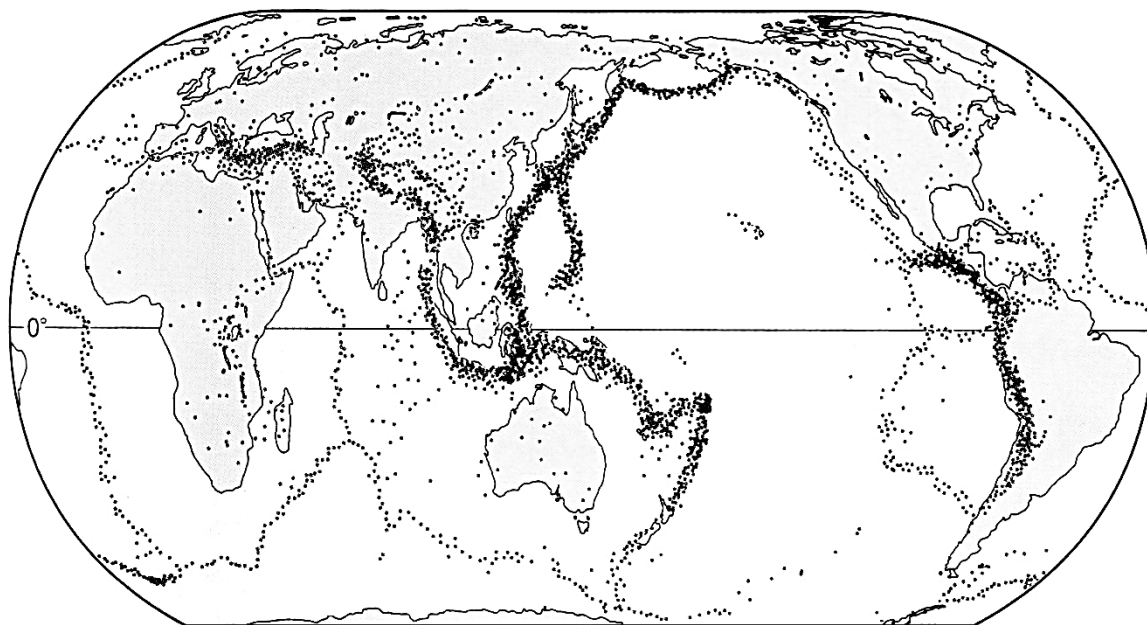
問1 日本は、さまざまな自然災害がおきやすい国です。次のグラフは、自然災害による死者・行方不明者の数を年別に示したものです。2011 年におこった自然災害として、正しいのはどれですか。下のア～エのうちから一つ選び、記号で答えなさい。



(「日本国勢図会」ジュニア版)

- ア 西日本豪雨災害      イ 能登半島地震      ウ 東日本大震災      エ 阪神・淡路大震災

問2 次の地図の●が示しているものとして、正しいものはどれですか。下のア～エのうちから一つ選び、記号で答えなさい。



(理科年表)

- ア 台風の被害が多い場所  
 イ おもな地震が発生した場所  
 ウ 火山がある場所  
 エ 竜巻が発生した場所

問3 次の災害から身を守る行動について説明した①・②の正誤の組み合わせとして、正しいものはどれですか。下のア～エのうちから一つ選び、記号で答えなさい。

- ① 危険な場所や避難場所<sup>ひなん</sup>をチェックしておく。  
 ② 飲み物、保存が利く食べ物、生活に必要な物は日ごろからたくわえておく。

	ア	イ	ウ	エ
①	正	正	誤	誤
②	正	誤	正	誤

問4 公害の防止や災害にあった被災地の復興などをおこなっている国の機関はどれですか。次のア～エのうちから一つ選び、記号で答えなさい。

ア 国土交通省      イ 厚生労働省      ウ 経済産業省      エ 環境省

問5 エネルギーとして利用されているガスについて述べた文のうち、誤っているものはどれですか。次のア～エのうちから一つ選び、記号で答えなさい。

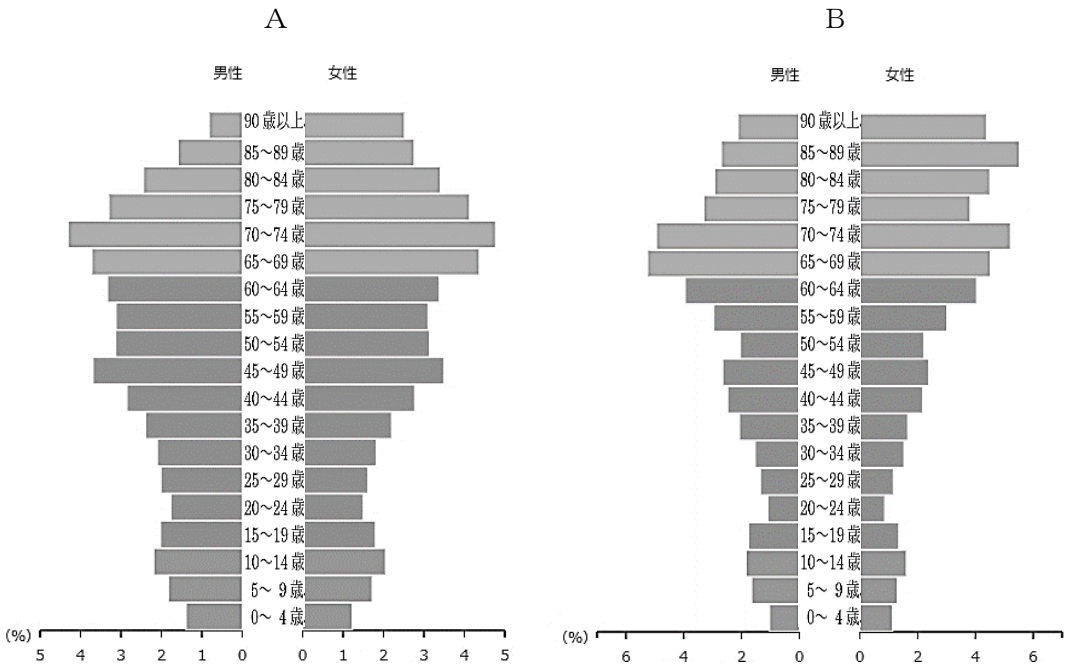
- ア ガスメーターは、地震やガスもれを感知するとガスを止めるしくみになっている。  
 イ 都市ガスに使われている天然ガスは、タンカーで海外から運ばれてくる。  
 ウ ガスもれにすぐに気づけるように、においがつけられている。  
 エ ガスは、何度もくり返し利用することができる再生可能エネルギーである。

問6 社会の授業で福山市と神石高原町の人口について調べました。次のAとBのグラフは福山市と神石高原町の人口ピラミッドです。また、CとDのグラフは福山市と神石高原町の1970年～2020年までの人口割合の推移を示したものです。福山市にあてはまる組み合わせとして、正しいものはどれですか。あとのア～エのうちから一つ選び、記号で答えなさい。



(広島県HP)

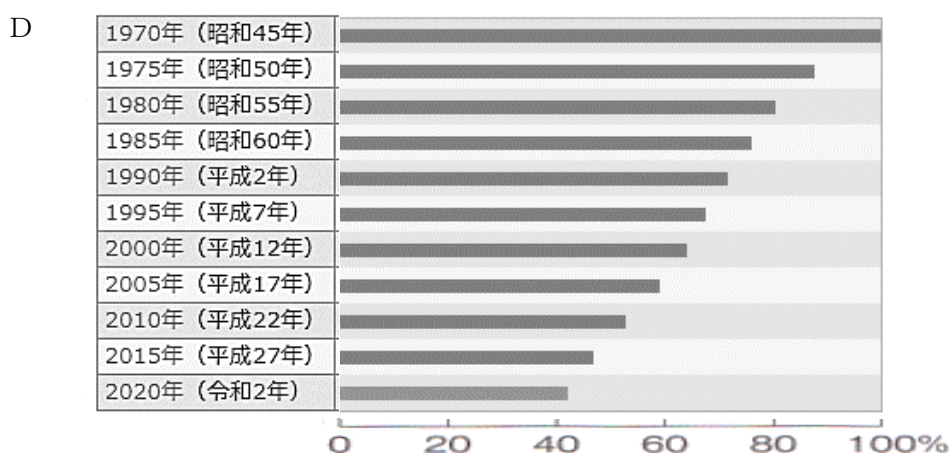

〈人口ピラミッド〉



(総務省統計局 国勢調査)



〈1970 年～2020 年までの人口割合の推移〉



(総務省統計局 国勢調査)

	ア	イ	ウ	エ
人口ピラミッド	A	A	B	B
人口推移の割合	C	D	C	D

問7 次の文章を読んで、[ 1 ]・[ 2 ] にあてはまる語句の組み合わせとして、正しいものはどれですか。下のア～エのうちから一つ選び、記号で答えなさい。

近年、情報通信技術が生活のさまざまな場面で活用されています。たとえば、買い物をするときにスマートフォンを機械にかざして支払う [ 1 ] が広がっています。また、バスには人工衛星からの電波を受信して位置情報を計測する [ 2 ] を使うことで、バスの運行状況の「見える化」が進められています。

- |   |              |           |
|---|--------------|-----------|
| ア | [ 1 ] マイナンバー | [ 2 ] GPS |
| イ | [ 1 ] マイナンバー | [ 2 ] POS |
| ウ | [ 1 ] 電子マネー  | [ 2 ] GPS |
| エ | [ 1 ] 電子マネー  | [ 2 ] POS |

**3** 次のA～Dの文章を読んで、下の各問いに答えなさい。

A 593年、天皇の子として生まれた聖徳太子は、①天皇の政治を助ける役職につきました。そして、当時大きな力を持っていた蘇我氏とともに天皇中心の国づくりにあたりました。進んだ制度や文化、学問を取り入れることが必要だと考えた聖徳太子は、( ② )を使者として隋に送りました。国内の政治では、③冠位十二階を定めたり、十七条の憲法を定めたりしました。また、仏教をあつく信仰していた聖徳太子は、( ④ )を建て仏教の教えを人々に広めました。

問1 下線部①について、聖徳太子が天皇の政治を助けるためについた役職はどれですか。次のア～エのうちから一つ選び、記号で答えなさい。

ア 関白                  イ 摂政                  ウ 太政大臣                  エ 征夷大將軍

問2 ( ② )にあてはまる人物を答えなさい。

問3 下線部③について、この制度を定めた理由として正しいものはどれですか。次のア～エのうちから一つ選び、記号で答えなさい。

- ア 役人の心構えを示すため。
- イ 国をつくった神々のことを人々に伝えるため。
- ウ 家柄に関係なく能力や功績で役人を取り立てるため。
- エ 大きな力を持っていた豪族の協力をもらうため。

問4 文章中の( ④ )の寺院は現存する世界最古の木造建築です。この寺院の名を答えなさい。

B 794年、都が( ⑤ )京に移された(⑤)時代、朝廷の政治は一部の有力な貴族によって動かされていました。その中でも中臣鎌足の子孫である藤原氏は、大きな力を持ちました。⑥藤原道長は、世の中のすべてが自分の思い通りになっているという意味の和歌をよんだほどです。

貴族のゆうがなくらしの中で、かな文字も発明されました。自分の気持ちを細かく表現できるようになり、⑦朝廷に仕える女性たちを中心に、多くの文学作品がつくられました。このように朝廷を中心とした、美しく華やかな( ⑧ )文化が貴族のくらしの中から生まれました。

問5 ( ⑤ )にあてはまる都はどれですか。次のア～エのうちから一つ選び、記号で答えなさい。

ア 藤原                  イ 平安                  ウ 長岡                  エ 平城

問6 下線部⑥について、藤原道長がよんだ和歌として正しいものはどれですか。次のア～エのうちから一つ選び、記号で答えなさい。

- ア めぐりあひて 見しやそれとも わかぬまに 雲がくれにし 夜半の月かな  
イ 夜をこめて 鳥のそらねは はかるとも よに逢坂の 関はゆるさじ  
ウ この世をば わが世とぞ思ふ もち月の かけたることも なしと思へば  
エ 天の原 ふりさけ見れば 春日なる 三笠の山に 出でし月かも

問7 下線部⑦について、藤原道長の娘に仕えた人物で、2024年のNHK大河ドラマ「光る君へ」では、主人公としてえがかれた紫式部の作品はどれですか。次のア～エのうちから一つ選び、記号で答えなさい。

- ア 源氏物語      イ 枕草子      ウ 土佐日記      エ 古今和歌集

問8 ( ⑧ ) にあてはまる語句を答えなさい。

C 1467年、( ⑨ ) の乱が起こると室町幕府の力はおとろえ、戦国大名と呼ばれる各地の武将が、勢力を争う戦国時代となりました。戦いは各地でくり広げられ、戦国時代は100年ほど続きました。1543年には、鹿児島県の種子島にポルトガル人を乗せた船が流れ着き、⑩鉄砲が伝えられ戦い方を大きく変えました。その6年後には、スペイン人の( ⑪ ) によって鹿児島にキリスト教が伝えられ、九州中心にキリシタンが急増しました。堺や博多などの港町は、これらの国々との南蛮貿易によって大いに栄えました。このように、ヨーロッパ人の来航はこの時代に大きな変化をもたらし、織田信長や⑫豊臣秀吉などの戦国大名に大きな影響を与えました。

問9 ( ⑨ ) にあてはまる語句を答えなさい。

問10 下線部⑩について、鉄砲に関係する文として誤っているものはどれですか。次のア～エのうちから一つ選び、記号で答えなさい。

- ア 鉄砲は火縄銃とよばれ、大阪の堺などで大量に生産された。  
イ 織田信長は、鉄砲の産地や貿易港を支配することで勢力を広げた。  
ウ いくさでは足軽鉄砲隊が組織され、集団戦法がもちいられた。  
エ 織田信長は、関ヶ原の戦いで3000丁もの鉄砲を使って、甲斐の武田氏に勝利した。

問11 ( ⑪ ) にあてはまる人物を答えなさい。

問 12 下線部⑫について、豊臣秀吉がおこなった政策として誤っているものはどれですか。次のア～エのうちから一つ選び、記号で答えなさい。

- ア 寺社勢力をうばうことをねらって、キリスト教を保護し布教を認めた。  
イ 百姓たちから刀や鉄砲を取り上げて、反抗できないようにした。  
ウ 田畑の広さやとれる米の量、耕作人を調査する検地をおこなった。  
エ 明を征服しようと、2 度にわたって朝鮮に大軍を送った。

D 1914 年、第一次世界大戦がヨーロッパで起こると、日本は輸出がのびて好景気となりました。しかし、⑬米などの物価が高くなり、人々は生活を守るために民衆運動をおこしました。このころ、民主主義への意識は高まり、⑭普通選挙を求める運動が広く展開されました。また、それまで男性より低く見られ差別されてきた女性たちは、( ⑮ ) や市川房枝らを中心に新婦人協会を設立し、選挙権などの獲得をめざす女性運動を展開しました。

問 13 下線部⑬について、1918 年、富山県の漁村の主婦がおこした米の安売りを求める運動がきっかけとなって、全国に広がった出来事を何とといいますか。

問 14 下線部⑭について、1925 年、普通選挙法が制定され、どのような人々が選挙に行けるようになりましたか。15 字以内で説明しなさい。

問 15 ( ⑮ ) にあてはまる人物はだれですか。次のア～エのうちから一つ選び、記号で答えなさい。

- ア 津田梅子      イ 北条政子      ウ 清少納言      エ 平塚らいてう

4 次の各問いに答えなさい。

問 1 縄文時代の遺跡について説明した①・②の正誤の組み合わせとして、正しいものはどれですか。次のア～エのうちから一つ選び、記号で答えなさい。

- ① 青森県の三内丸山遺跡は、大きな建造物の跡などが見つかっている遺跡である。  
② 佐賀県の吉野ヶ里遺跡は、集落のまわりに堀やさくをめぐらせており、戦いがあったことを物語る遺跡である。

	ア	イ	ウ	エ
①	正	正	誤	誤
②	正	誤	正	誤

問2 鎌倉時代について説明した①・②の正誤の組み合わせとして、正しいものはどれですか。次のア～エのうちから一つ選び、記号で答えなさい。

- ① 元の大軍が2度にわたり九州北部に襲来し、元軍の一騎打ちの戦法に苦しめられた。  
 ② 源氏の将軍が3代で絶えると、将軍を助ける地頭の職についていた北条氏が政治を行うようになった。

	ア	イ	ウ	エ
①	正	正	誤	誤
②	正	誤	正	誤

問3 次の①～③の出来事を古いものから年代順に正しく並びかえたものはどれですか。下のア～カのうちから一つ選び、記号で答えなさい。

- ① サイパン島の日本軍守備隊が全滅し、その後本土への空襲が始まった。  
 ② 広島、長崎に原子爆弾が投下された。  
 ③ 日本の海軍がハワイの真珠湾を攻撃した。

ア ① → ② → ③      イ ① → ③ → ②      ウ ② → ① → ③  
 エ ② → ③ → ①      オ ③ → ① → ②      カ ③ → ② → ①

問4 終戦直後の日本について説明した①・②の正誤の組み合わせとして、正しいものはどれですか。次のア～エのうちから一つ選び、記号で答えなさい。

- ① 空襲により校舎が焼けたところでは、校庭にイスを並べて授業がおこなわれた。  
 ② 戦争で親をなくして、孤児となった子どもたちがいた。

	ア	イ	ウ	エ
①	正	正	誤	誤
②	正	誤	正	誤

問5 次の①～③の出来事を古いものから年代順に正しく並びかえたものはどれですか。下のア～カのうちから一つ選び、記号で答えなさい。

- ① アメリカが支援する韓国とソ連が支援する北朝鮮との間で、朝鮮戦争が起きた。  
 ② 大日本帝国憲法にかわり、日本国憲法が公布・施行された。  
 ③ 高度経済成長の中、アジアで初となる東京オリンピックが開かれた。

ア ① → ② → ③      イ ① → ③ → ②      ウ ② → ① → ③  
 エ ② → ③ → ①      オ ③ → ① → ②      カ ③ → ② → ①

**5** 次の文章を読んで、[ 1 ]・[ 2 ] にあてはまる語句の組み合わせとして、正しいものはどれですか。下のア～エのうちから一つ選び、記号で答えなさい。

**問1** 2024年5月16日、中国の首都 [ 1 ] でロシアの [ 2 ] 大統領と中国の<sup>しゅうきんぺい</sup>習近平国家主席が会談しました。両首脳による会談はここ1年で3回にのびります。

- |   |          |              |
|---|----------|--------------|
| ア | [ 1 ] 北京 | [ 2 ] プーチン   |
| イ | [ 1 ] 北京 | [ 2 ] ゴルバチョフ |
| ウ | [ 1 ] 上海 | [ 2 ] プーチン   |
| エ | [ 1 ] 上海 | [ 2 ] ゴルバチョフ |

**問2** 2024年6月25日、[ 1 ] は [ 2 ] と正式に加盟交渉<sup>こうしやう</sup>を始め、双方は大きな節目<sup>そうほう</sup>を迎えたとの認識を示しました。ただ、[ 2 ] が加盟するまでにはさまざまな改革が必要で、実現には何年もかかるとみられています。

- |   |          |             |
|---|----------|-------------|
| ア | [ 1 ] EC | [ 2 ] ウクライナ |
| イ | [ 1 ] EC | [ 2 ] イギリス  |
| ウ | [ 1 ] EU | [ 2 ] ウクライナ |
| エ | [ 1 ] EU | [ 2 ] イギリス  |

**問3** 2024年7月3日、新しい紙幣<sup>しへい</sup>の発行が始まりました。紙幣の刷新は約 [ 1 ] 年ぶりとなり、新紙幣は偽造防止<sup>ぎざう</sup>のため、肖像<sup>しやうざう</sup>の3D画像が回転するように見えるホログラム技術を世界で初めて採用されました。だれもが使いやすい [ 2 ] にも対応し、額面の洋数字を大きくしたほか、指でふれて紙幣を識別できるマークが分かりやすくなっています。

- |   |           |                  |
|---|-----------|------------------|
| ア | [ 1 ] 20  | [ 2 ] バリアフリー     |
| イ | [ 1 ] 20  | [ 2 ] ユニバーサルデザイン |
| ウ | [ 1 ] 100 | [ 2 ] バリアフリー     |
| エ | [ 1 ] 100 | [ 2 ] ユニバーサルデザイン |

**問4** 2024年7月27日、インドのニューデリーで開かれている [ 1 ] 世界遺産委員会は新潟県の [ 2 ] の世界文化遺産登録を決めました。[ 2 ] は、江戸幕府の下で生産システムが整備され、17世紀には質、量ともに世界最高水準だったとされています。

- |   |            |                |
|---|------------|----------------|
| ア | [ 1 ] ユニセフ | [ 2 ] 「佐渡島の金山」 |
| イ | [ 1 ] ユニセフ | [ 2 ] 「足尾銅山」   |
| ウ | [ 1 ] ユネスコ | [ 2 ] 「佐渡島の金山」 |
| エ | [ 1 ] ユネスコ | [ 2 ] 「足尾銅山」   |

問5 2024年8月11日、第33回夏季オリンピック・[ 1 ]大会の閉会式が行われました。新型コロナウイルス禍で原則無観客だった3年前の東京大会とは対照的に、会場は連日盛況となりました。日本選手団は海外開催の五輪で最多の金メダル20個を獲得する活躍を見せました。次回は2028年に[ 2 ]で開催されます。

- |   |            |              |
|---|------------|--------------|
| ア | [ 1 ] ロンドン | [ 2 ] メルボルン  |
| イ | [ 1 ] ロンドン | [ 2 ] ロサンゼルス |
| ウ | [ 1 ] パリ   | [ 2 ] メルボルン  |
| エ | [ 1 ] パリ   | [ 2 ] ロサンゼルス |

6 ある小学校のクラスでは、社会の授業で班ごとに調べ学習を行いました。それぞれの調べ学習の内容について、次の問いに答えなさい。

問1 1班は日本の憲法について発表しました。発表中の[ A ]～[ C ]に入る短文(①～⑥)の組み合わせとして、正しいものはどれですか。下のア～カのうちから一つ選び、記号で答えなさい。

日本国憲法には基本的人権の尊重、国民主権、平和主義の三つの原則があり、憲法の全体にこれらの原則がつらぬかれています。それぞれの原則にもとづくものには、例えば次の3つがあります。

- ・日本国民には、[ A ]などが保障されています。
- ・天皇は、日本の国や国民のまほとまりの象徴であり、[ B ]とされています。
- ・憲法第9条には、[ C ]ことなどが記されています。

- ① 憲法改正について発議する権利
- ② 健康で文化的な生活を営む権利
- ③ 外国と条約を結ぶ権限のみをもつ
- ④ 政治について権限をもたない
- ⑤ 外国との争いごとを武力で解決しない
- ⑥ 国民の生命を守るために核兵器をもたない

- |   |      |      |      |
|---|------|------|------|
| ア | A. ① | B. ③ | C. ⑤ |
| イ | A. ① | B. ③ | C. ⑥ |
| ウ | A. ① | B. ④ | C. ⑥ |
| エ | A. ② | B. ③ | C. ⑤ |
| オ | A. ② | B. ④ | C. ⑤ |
| カ | A. ② | B. ④ | C. ⑥ |

問2 2班は国会についての表を作りました。表中の  ～  にあてはまる内容（①～⑥）の組み合わせとして、正しいものはどれですか。下の **ア～ク** のうちから一つ選び、記号で答えなさい。

【国会】

議院	衆議院と参議院がある
議員定数	衆議院が 465 名、参議院は 2022 年から 248 名となった
任期	<input type="text" value="A"/> ごとに半数ずつ改選される
被選挙権	衆議院が 25 才以上、参議院は 30 才以上である
解散	<input type="text" value="B"/> がある
議決	<input type="text" value="C"/> の議決が優先されることがある

- ① 衆議院が 6 年で、参議院は 4 年で 2 年
- ② 衆議院が 4 年で、参議院は 6 年で 3 年
- ③ 衆議院、参議院ともに解散
- ④ 衆議院のみ解散
- ⑤ 衆議院と参議院との間で異なる議決があった場合に参議院
- ⑥ 衆議院と参議院との間で異なる議決があった場合に衆議院

	ア	イ	ウ	エ	オ	カ	キ	ク
A	①	①	①	①	②	②	②	②
B	③	③	④	④	③	③	④	④
C	⑤	⑥	⑤	⑥	⑤	⑥	⑤	⑥



問3 3班は国や地方公共団体の予算について発表しました。発表中の□A・□Bにあてはまる語句の組み合わせとして、正しいものはどれですか。次のア～エのうちから一つ選び、記号で答えなさい。

国や地方公共団体の歳入<sup>さいにゅう</sup>と歳出の計画を予算といいます。歳入の中には住民や会社が納めた税金があります。税金には、ものを買ったときにかかる□Aなどがあります。歳出には、国の借金の返済にかかる費用である□Bなどがあります。

- ア A. 消費税 B. 社会保障費      イ A. 消費税 B. 国債費<sup>こくさい</sup>  
ウ A. 所得税 B. 社会保障費      エ A. 所得税 B. 国債費

問4 4班は世界的な環境問題<sup>かんきとう</sup>について調べました。次の発表中の空欄（ ）にあてはまる語句をアルファベット4文字で答えなさい。

地球温暖化や熱帯雨林の減少、砂漠化<sup>さばく</sup>や酸性雨などの地球規模の環境問題が生じるなか、生活と環境のバランスを考えた持続可能な社会の実現が国際的な課題となっています。この持続可能な社会を実現するために、2015年に国連で開かれたサミットで示された17の目標を（ ）といいます。この目標を実現するために、自分たちにできることは、どのようなことがあるのか、クラスのみんなで考えたいです。

問5 5班は森林環境税について次の新聞記事を読んで話し合いました。その時の会話中の  
Aに入る語句と、Bにあてはまる内容の組み合わせとして、正しいものはどれ  
ですか。あとのア～エのうちから一つ選び、記号で答えなさい。

## 森林環境税

森林環境税の徴収が今月始まった。低所得者を除く約6200万人が対象で、1人当たり年千円が住民税に上乗せされる。毎年約620億円の税収が自治体に配分される。有効に活用せねばならない。森林は木材の供給に加え、土砂災害を防ぎ、地球温暖化のもとになるAを吸収するなど、さまざまな機能を持つ。健全な形で維持していく必要があるのは間違いない。しかし林業の担い手不足は深刻で、管理が行き届いていない。里山が荒廃し、野生のクマが都市部に出没する例も増えている。

森林を守るため、間伐や林業の担い手確保、国産材の活

用などの資金を配分する制度は、別の財源で先行して2019年度に始まっているが、既に問題が浮上している。最大の課題は、お金を使い切れていないことだ。19、22年度に都道府県と市町村へ配

## 生きた使い道探る議論を



2024・6・9

分された額は計1500億円。うち35%に当たる525億円が活用されず、基金に積

み立てられた。

背景には、私有の人工林面積や人口などに応じて税が配分される仕組みがある。人口が多く取り分が増えやすい都市部には、森林が少ない。学校など公共施設の木造化といった木材の消費に充てること

森林環境税は、東日本震災の復興増税の一部を切り替える手法を採る。復興増税が必要なくなったのなら、いったん増税分をゼロに戻すのが筋である。「取りやすいところから取る」という発想で、新税を当てはめ、制度設計が甘くなった面はないだろうか。納税者の所得にかかわら

る。全国には似た税制を持つ県は多い。納税者の理解を得られる支出をしていかねばならない。ただ、使い道に制限がある目的税は、事業の規模に対して歳入が少ないと動きが取れず、多過ぎると無駄遣いが起きやすい。森林環境税の用途はインターネットなどで公表するよう義務付けられている。安易に使われないよう注視したい。

ず、徴収額が一律である点が公平性に欠けるという指摘もある。

一方、人口の少ない地方の自治体は配分額が少なく、動きが取りにくい。政府は本年度、人口に応じて配る金額の割合を30%から25%に減らし、山間部への配分が増えるようにした。当然の見直しだが、この割合が妥当かどうかは今後も検証が欠かせない。

納税者には「二重負担」との受け止めもあるだろう。広島県は国より早く、07年度に「ひろしまの森づくり県民税」を導入した。県民税の納税者から年500円を徴収し、森林機能の維持などに充ててい

森林を守るということは、その地域で暮らす人たちを守ることもできる。木材の生産者や都市部の消費者を含め、多くの人が森林資源を通じてつながっている。将来世代に引き継ぐ森林のありようや、そのために森林環境税をどう使っていくかについて、社会で議論を広げるべきだ。

(2024年6月9日中国新聞記事)

えいと：森林環境税は、低所得者を除いて1人あたり年1000円が住民税に上乗せされるんだね。

みどり：この税収が森林の環境を守るために自治体に分配されるのね。

すすむ：森林は木材の供給に加え、土砂災害を防ぎ、地球温暖化のもとになる A を吸収するなど、さまざまな機能を持つと記事に書いてあることは、社会の時間で習ったのを覚えているよ。

えいと：その森林を守るための森林環境税なんだけど、さまざまな問題点があるんだね。

みどり：わたしは、納税者には「二重負担」との受け止めもあるだろうという問題点が気になるわ。  
2024年以降、「ひろしまの森づくり県民税」とあわせて B が森林保全などのために税として徴収<sup>ちやうしゆう</sup>されるようになるのは、本当に二重の負担になると思うの。

すすむ：記事にあるように、森林を守るということは、その地域で暮らす人たちを守ることでもあるから、この税金を有効に活用してもらいたいよね。

えいと：では、どんな取り組みがあるか調べてみよう。

- |   |          |                             |
|---|----------|-----------------------------|
| ア | A. 酸素    | B. すべての広島県民は1人あたり年間1000円    |
| イ | A. 酸素    | B. 低所得者を除く広島県民は1人あたり年間1000円 |
| ウ | A. 二酸化炭素 | B. すべての広島県民は1人あたり年間1500円    |
| エ | A. 二酸化炭素 | B. 低所得者を除く広島県民は1人あたり年間1500円 |